

2026年度  
晃華学園中学校

第1回  
入学試験問題

【 社 会 】

時間：25分  
配点：50点

特に指定のない限り、人名・地名は漢字で答えなさい。

---

答えはすべて解答用紙に記入すること。

---



問題は次のページから始まります。

- 1 資料Ⅰは、2025年6月1日から1週間にわたり、<sup>あきこ</sup> 晃子さんが興味を持った新聞記事をまとめたものです。資料Ⅱは、<sup>はなこ</sup> 華子さんが全国各地で発行されている地方新聞の中から、歴史に関する新聞記事の見出しをまとめたものです。

【資料Ⅰ】

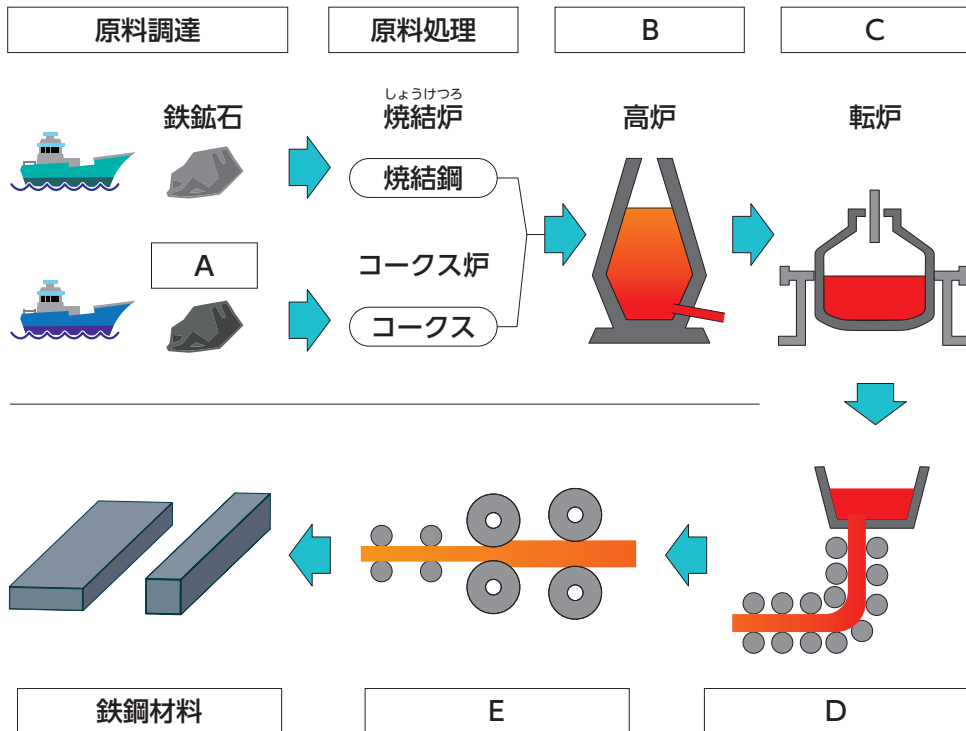
| 日付   | 内容  |
|------|---|
| 6月1日 | アメリカのトランプ大統領は5月30日、輸入する①鉄鋼とアルミニウムにかけている関税の税率を50%に倍増させると表明した。  |
| 6月2日 | ②イスラエルがパレスチナにあるガザ地区の支援物資供給所 <sup>こうげき</sup> を攻撃し、多くの犠牲者 <sup>ぎせいしや</sup> が出た。                           |
| 6月3日 | 国内のコメ価格の急上昇を受け、③コメの輸入量が急激に増えている。  |
| 6月4日 | 読売ジャイアンツ（巨人）で活躍 <sup>かつやく</sup> し、「ミスター④プロ野球」とよばれた <sup>ながしましげお</sup> 長嶋茂雄さんが、6月3日、亡 <sup>な</sup> くなった。 |
| 6月5日 | ⑤2024年に国内で生まれた日本人の子ども（出生数）は68万6061人で、70万人を下回り、統計がある1899年以降、過去最少となった。                                    |
| 6月6日 | アメリカとの⑥関税 <sup>こうしやう</sup> 交渉のため、日本の経済再生担当大臣がワシントンに向けて出発した。   |
| 6月7日 | 2011年に起きた⑦東京電力福島第一原発事故 <sup>こうそしん</sup> をめぐる裁判の控訴審判決が、6月6日に下された。  |

【資料Ⅱ】

| 発行地  | 見出し   |
|------|---|
| 北海道  | 旧幕府軍の犠牲者をしのぶ ⑧五稜郭 <sup>ごりやうかく</sup> の戦いの慰霊祭 <sup>いれいさい</sup>  |
| 岩手県  | ⑨松尾芭蕉 <sup>そくせき</sup> の旅の足跡 <sup>あしあと</sup> を学ぶ勉強会 <sup>かいさい</sup> 開催                                 |
| 千葉県  | 「⑩縄文 <sup>なづな</sup> の音色」どうでした 石笛 <sup>いしぶえ</sup> 、土笛 <sup>つちぶえ</sup> 、土器太鼓 <sup>つちこ</sup> 再現          |
| 東京都  | 関東大震災100年の教訓 首都直下地震想定、各地で⑪防災訓練  |
| 神奈川県 | 新東名高速道路の建設予定地で、⑫鎌倉時代の武士 <sup>やしき</sup> の屋敷 <sup>やしき</sup> や寺 <sup>あつ</sup> の跡 <sup>あと</sup> が続々と発掘される |
| 富山県  | <sup>おたる</sup> 小樽から⑬北前船 <sup>きたまへふね</sup> 子どもフェリー使節団 <sup>しせつだん</sup> が来県                             |
| 岐阜県  | 岐阜市、⑭織田信長 <sup>おだのぶなが</sup> の居館 <sup>いこん</sup> 、当時の岐阜城を三次元の仮想空間で公開                                    |
| 滋賀県  | ⑮大友皇子 <sup>おほともみまろ</sup> の大津宮、大権奪われた無念、宮跡の静寂 <sup>せいじやく</sup> に宿る                                     |
| 鳥取県  | 石破茂、鳥取県初の⑯内閣総理大臣 <sup>うば</sup> 選出へ  |
| 長崎県  | 長崎の⑰かくれキリシタン用具、重要文化財に指定   |

※この見出しは出題者がわかりやすくまとめたものです。

問1 下線①について、次の図を見て、後の各設問に答えなさい。

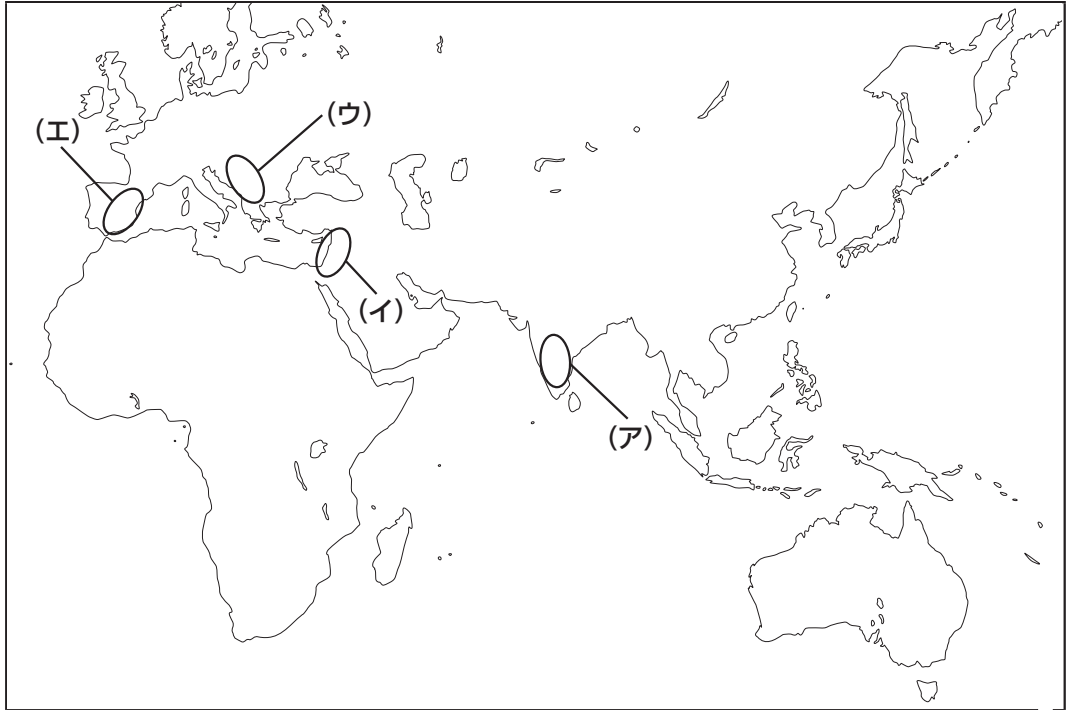


(1)  に入る資源の名称を答えなさい。

(2)  ~  に入る語句の組み合わせとして正しいものを、(ア)~(エ)から1つ選び、記号で答えなさい。

- |           |       |       |       |
|-----------|-------|-------|-------|
| (ア) B: 銑鉄 | C: 铸造 | D: 製鋼 | E: 圧延 |
| (イ) B: 圧延 | C: 製鋼 | D: 銑鉄 | E: 铸造 |
| (ウ) B: 圧延 | C: 銑鉄 | D: 铸造 | E: 製鋼 |
| (エ) B: 銑鉄 | C: 製鋼 | D: 铸造 | E: 圧延 |

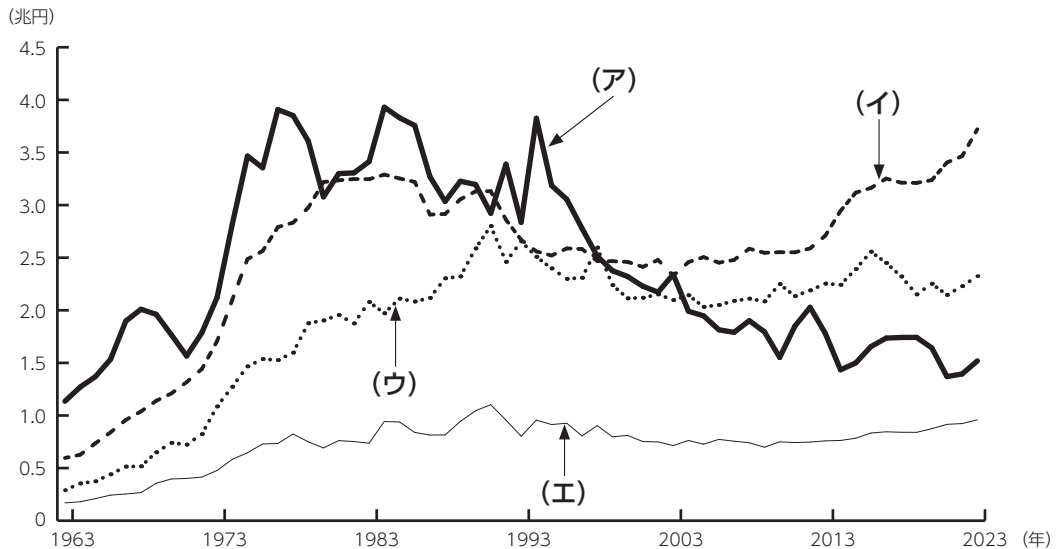
問2 下線②のある地域を地図中の(ア)～(エ)から1つ選び、記号で答えなさい。



問3 下線③について、後の各設問に答えなさい。

(1) 日本では、ガット (GATT) のウルグアイ・ラウンドをうけて、1995年度からコメの輸入を開始しました。その際に定められたコメの最低限の輸入量のことを何といいますか。カタカナで答えなさい。

(2) 下のグラフは、畜産・果物・コメ・野菜の産出額の推移を表したものです。グラフ中の (ア)～(エ) から、コメを選び、記号で答えなさい。



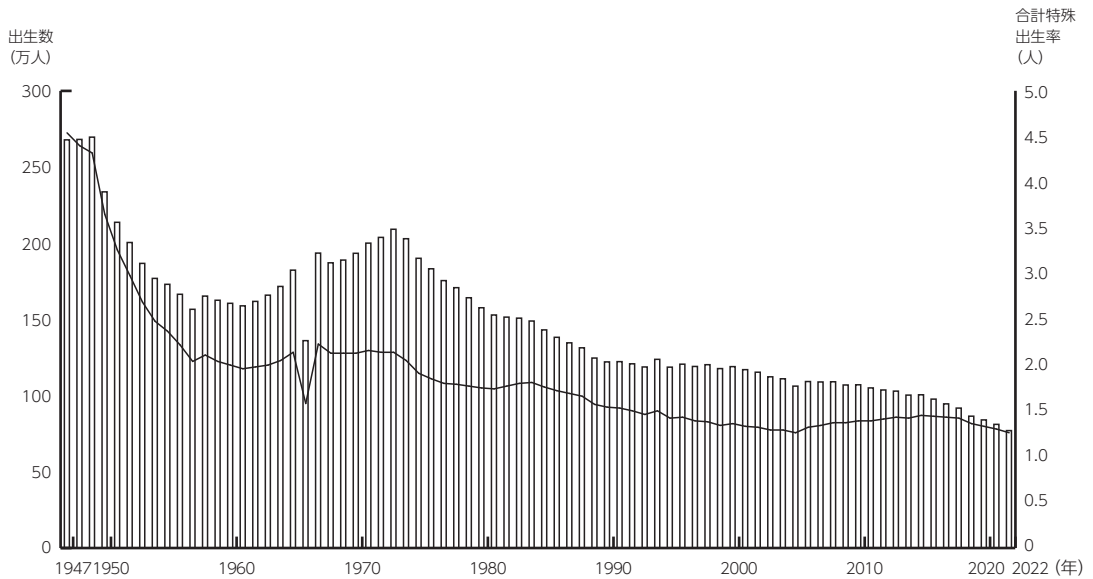
(農林水産省「生産農業所得統計」より作成)  
1975年以前は、沖縄県を含みません)

問4 下線④について、1950・60年代の日本のプロ野球は、7つのチーム (国鉄スワローズ・阪神タイガース・阪急ブレーブス・近鉄バファローズ・南海ホークス・東急フライヤーズ・西鉄ライオンズ) の経営に、鉄道会社が参加していました。

当時、鉄道会社は、野球チームだけではなく、遊園地などのレジャー施設・百貨店 (デパート) の運営にも積極的に関わっていました。これらの運営は、鉄道会社にどのような利点があるのでしょうか、説明しなさい。

問5 下線⑤について、次のグラフと表から読み取れることとして正しいものを、下から1つ選び、記号で答えなさい。

出生数及び合計特殊出生率の年次推移



地方別にみた合計特殊出生率

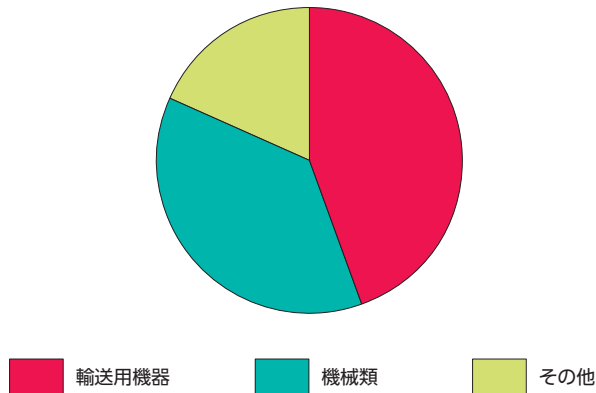
|     | 令和6年<br>(2024) | 令和5年<br>(2023) |
|-----|----------------|----------------|
| 全国  | 1.15           | 1.20           |
| 北海道 | 1.01           | 1.06           |
| 東北  | 1.10           | 1.17           |
| 関東  | 1.10           | 1.15           |
| 中部  | 1.26           | 1.32           |
| 近畿  | 1.20           | 1.25           |
| 中国  | 1.35           | 1.39           |
| 四国  | 1.30           | 1.34           |
| 九州  | 1.39           | 1.46           |

(グラフと表は、厚生労働省「人口動態統計」から出題者が作成したもの)

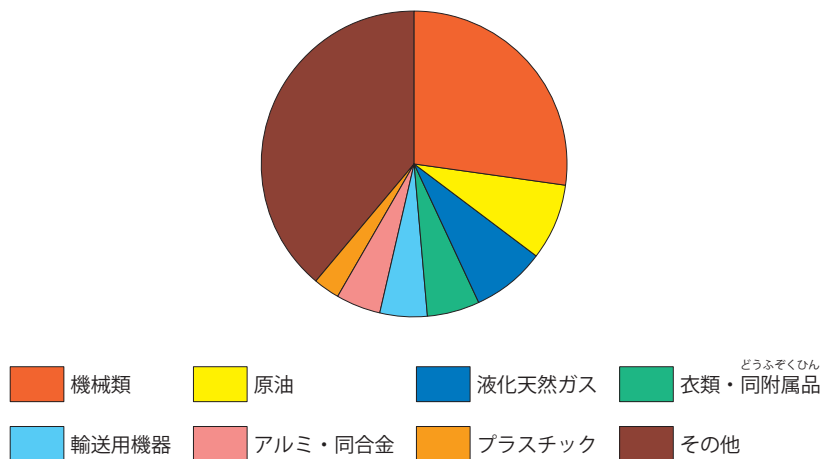
- (ア) 1965年以降、出生数は200万人を超えたことはなく、一貫して下がり続けている。
- (イ) 合計特殊出生率は、2000年以降、1度も上がることはなく、ずっと下がり続けている。
- (ウ) 合計特殊出生率は、西日本より東日本で高い傾向がある。
- (エ) 2023年と2024年の合計特殊出生率を見ると、合計特殊出生率が上昇した地方はない。

問6 下線⑥について、次のグラフは、日本のある港の貿易のようすを表したものです。この港は、どの港にあたりますか。下の (ア)～(エ) から1つ選び、記号で答えなさい。

輸出計 151,870億円



輸入計 73,236億円



(矢野恒太記念会「日本国勢図会2025/2026」より作成)

- (ア) 東京港      (イ) 名古屋港      (ウ) 横浜港      (エ) 成田国際空港

問7 下線⑦について、日本政府はこの事故の危険度を、1986年にチヨルノービリ（チェルノブイリ）原子力発電所で起きた事故と同じ、過去最悪のレベル7と位置づけました。チヨルノービリ原子力発電所は、現在のどの国にありますか、答えなさい。

問8 下線⑧のある場所を、次から1つ選び、記号で答えなさい。

(ア) 札幌                      (イ) 室蘭                      (ウ) 函館                      (エ) 釧路

問9 下線⑨は「夏草や つわものどもが 夢のあと」という俳句を詠みました。この俳句は、源義経が奥州藤原氏に滅ぼされた地で詠まれました。奥州藤原氏が拠点としていた地名を答えなさい。

問10 下線⑩時代の遺跡に多くある、魚や動物の骨や土器の破片などを捨てた跡を何といいますか、答えなさい。

問11 下線⑩について、後の各設問に答えなさい。

(1) 災害が起きた際に設置される緊急災害対策本部の長を務める役職として正しいものを、次から1つ選び、記号で答えなさい。

(ア) 内閣総理大臣 (イ) 防衛大臣 (ウ) 国土交通大臣 (エ) 官房長官

(2) 地震などの予測や警報を出す国の行政機関を何といいますか、庁の名前を答えなさい。

(3) 大きな災害に備えるためには、私たち一人ひとりの「自助」、地域の人どうしが助け合う「共助」、政府や自治体による取り組みである「公助」という考え方が大切です。これらの考え方について、以下の問いA・Bに答えなさい。

A 助け合いに関する考え方である「自助」「共助」「公助」について、その例の組み合わせとして正しいものはどれですか。次の(ア)～(カ)から1つ選び、記号で答えなさい。

#### 助け合いに関する考え方

あ — 「自助」    い — 「共助」    う — 「公助」

#### 例

X—自治体がハザードマップを配布する

Y—町内会や自治会が防災訓練を行う

Z—自分で非常用持ち出し袋(水・食料など)を用意する

(ア) あ—X    い—Y    う—Z

(イ) あ—X    い—Z    う—Y

(ウ) あ—Y    い—X    う—Z

(エ) あ—Y    い—Z    う—X

(オ) あ—Z    い—X    う—Y

(カ) あ—Z    い—Y    う—X

B 大雨による水害が増えている原因は、地球規模の環境問題にあるといわれています。まず、その環境問題を挙げなさい。さらに、その問題に対する取り組みを「共助」の観点から考えて、説明しなさい。

問12 下線⑫について、次の資料（ア）～（エ）の内容を年代順に並べ替えたときに、3番目にあたるものを記号で答えなさい。

（ア）

御家人が領地を売買したり、質入れしたりしてはならない。御家人が売却してから20年以内の土地は、元の所有者に返さなければならないが、売却してから20年以上過ぎた土地は、現在の所有者のものとする。ただし、御家人以外の武士や庶民が買い取った土地は、何年過ぎていても元の所有者に返さなければならない。

（イ）

蒙古人が対馬・壱岐に襲来して合戦が始まったので、兵を派遣することになった。九州にいる武士は、たとえ御家人ではない者でも手柄をあげれば恩賞を与えると将軍様が仰せになったので、これを早く人々に知らせなさい。

（ウ）


この式目をつくったことについて、何をもとにしたのかと非難する人がいるでしょうが、ただ道理の示すことを書いてだけです。あらかじめ裁判の決まりを定めて、公平な裁判が行われるように細かく記録してあります。

（エ）

みな心を一つにして聞きなさい。頼朝公が幕府を開いて以来、頼朝公がみなに与えた恩は山よりも高く海よりも深いものです。それに感謝して報いたいという気持ちは浅いはずがありません。名誉を重んじるものは、早く敵を討ち取り幕府を守りなさい。ただし京都に味方するものは今はっきりと申し出なさい。

問13 下線⑬は図1のような船です。この船は北海道から日本海を経由して大阪に至る航路で、昆布こんぶや鰯にしんなどの海産物うんぼんを運搬なまごろしました。この船は明治時代中頃に衰退していきました。江戸時代に描かれた図1と明治時代に描かれた図2を見て、北前船が衰退した理由を、江戸時代から明治時代に起こった動力の変化から説明しなさい。

図1



(葛飾北斎『富嶽三十六景 上総ノ海路』)

図2



(広重『東京名勝高縄鉄道之図』 国立国会図書館デジタルアーカイブ)

問14 下線⑭に関する説明として正しいものを、次から1つ選び、記号で答えなさい。

- (ア) 室町幕府の15代将軍足利義政を追放した。
- (イ) 長篠の戦いで今川義元を破った。
- (ウ) 楽市楽座を命じて、座の特権を保護した。
- (エ) 石山本願寺と戦い、降伏させた。

問15 下線⑮は大海人皇子と天皇の地位を巡って争いました。この内乱を何といいますか、答えなさい。

問16 下線⑯について、初代の内閣総理大臣は誰ですか、答えなさい。

問17 下線⑰を見つけるために、幕府はすべての人を寺に所属させました。キリシタンではないことを寺に証明させるための、この制度を何といいますか、答えなさい。



