

2025年度
晃華学園中学校

第3回
入学試験問題

【 社 会 】

時間：25分
配点：50点

特に指定のない限り、人名・地名は漢字で答えなさい。

答えはすべて解答用紙に記入すること。

問題は次のページから始まります。

1 次の文章は、^{あきこ}晃子さんと^{はなこ}華子さんの会話です。この会話文を読んで、後の各問いに答えなさい。

晃子：この前の夏休みに、①鹿児島から②沖縄に船で旅行したんだ。その旅行中に食べた③魚がとてもおいしかったよ。

華子：いいなあ。私は④海のない県に住んでいたから、あまり船に乗ったことがないんだ。飛行機の旅も良いけど、船旅にもあこがれるなあ。

晃子：そういえば、この前の授業で教わった⑤遣唐使も、船で⑥海を渡っていたんだと思うとすごいよね。

華子：今よりも⑦船での旅は危険だっただろうし、怖いよね。でも海外と交流するには、当時は船しか方法がないもんね。

晃子：⑧鉄砲とかも、船で来た人たちから持ち込まれていたよね。そう考えると、船での交流が日本の⑨技術や文化に大きな影響を与えたのかも。

華子：この前、⑩日本橋から⑪水上バスに乗ったんだけど、あそこは⑫江戸時代に交通の要所として発展したらしいね。

晃子：水上バスって楽しそう。そういえば、たくさんの外国人観光客が水上バスに乗っているというニュースを見たよ。

華子：そうそう。⑬留学生みたいな人たちも乗ってたよ。

晃子：船で海外に行ってみるのもおもしろそうだね。船に乗っているときに、たくさんの海の生き物を見たら、⑭環境について考えてみるきっかけになりそう。

華子：でも、地震や⑮海底火山の影響で起きる津波のニュースを見るたび、そのとき船に乗っていたらどうしよう、と心配になっちゃうよ。去年も⑯石川県で大きな地震があったし。他にも、外国で⑰感染症にかかってしまうのも怖いよ。

晃子：心配するのは分かるけど、感染症についても、1つの国だけでは解決できないんだよね。世界の人たちと一緒に解決する方法を考えていかなければならない時代なんだよ。

問1 下線①県にある世界遺産で、亜熱帯から亜寒帯までの多様な植生が見られ、杉の原生林で知られる島を何といいますか、答えなさい。

問2 下線②県では、一般市民を巻き込んだ沖縄戦が起きました。それはいつの出来事ですか、^{できごと}西暦で答えなさい。

問3 下線③について、次の表は、日本の漁業生産量の推移を示しています。この表のA～Cに当てはまる漁業の組み合わせとして正しいものを、下の(ア)～(カ)から1つ選び、記号で答えなさい。

	A	B	C
1970年	189	328	343
1980年	204	570	217
1990年	199	608	150
2000年	158	259	85
2010年	129	236	48
2020年	87	204	30

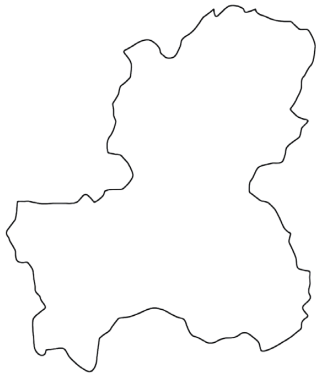
(単位：万トン)

(2023/24年版「日本国勢図会」より作成)

- | | | |
|--------------|----------|----------|
| (ア) A - 沖合漁業 | B - 遠洋漁業 | C - 沿岸漁業 |
| (イ) A - 沖合漁業 | B - 沿岸漁業 | C - 遠洋漁業 |
| (ウ) A - 遠洋漁業 | B - 沿岸漁業 | C - 沖合漁業 |
| (エ) A - 遠洋漁業 | B - 沖合漁業 | C - 沿岸漁業 |
| (オ) A - 沿岸漁業 | B - 沖合漁業 | C - 遠洋漁業 |
| (カ) A - 沿岸漁業 | B - 遠洋漁業 | C - 沖合漁業 |

問4 下線④を次から1つ選び、記号で答えなさい。

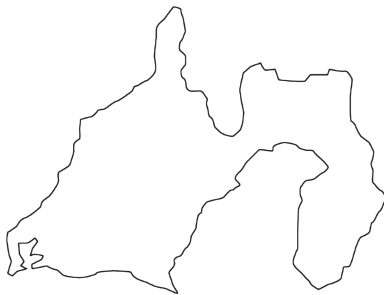
(ア)



(イ)



(ウ)



(エ)



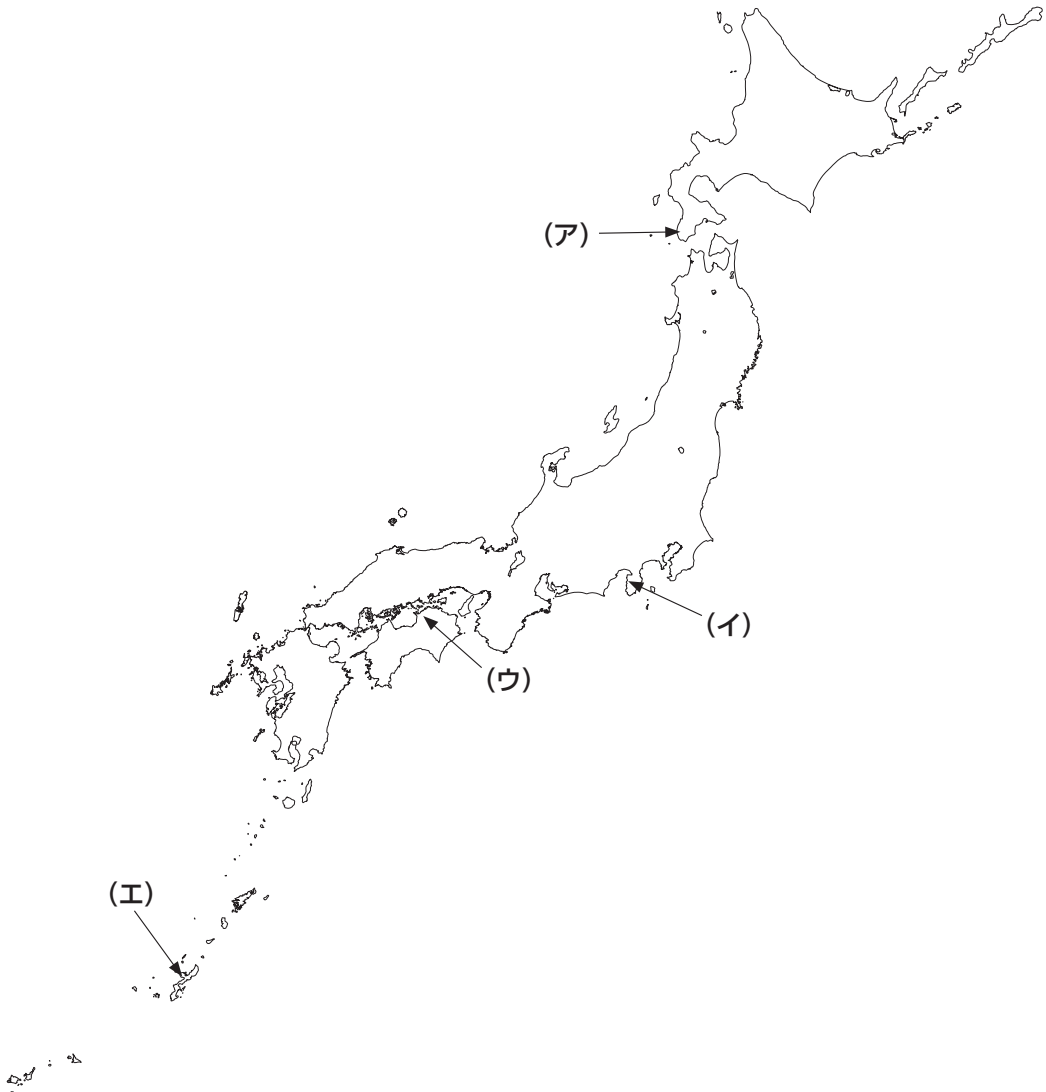
※地図は、上が北で、縮尺の比は同じではありません。

問5 下線⑤について、894年に遣唐使の派遣中止を建議した貴族は誰だれですか、答えなさい。

問6 下線⑥に関して、その国の主権が及び、その国の領土に接した一定範囲の海域を何およと
いますか、答えなさい。

問7 下線⑦に関して、昔から日本の人々は、海上の安全を各地の神社（宮）で祈願（きがん）しています。次の説明文の神社（宮）がある場所を、下の地図中（ア）～（エ）から1つ選び、記号で答えなさい。

この地にある神社は、古くから「海の神様」として人びとの信仰（しんこう）を集めています。門前町から一番奥の建物まで約1400段の石段が続きます。門前町には、うどん屋が多く軒（のき）をつらね、この県の特産品であるオリーブハマチは、人気がとても高いことで有名です。



問8 下線⑧について、1543年に鉄砲が伝わると各地に急速にその製造技術が広まりました。この背景には、当時の日本で発達していたある技術が影響しています。その技術として正しいものを、次から1つ選び、記号で答えなさい。

- (ア) 灌漑技術 (イ) 鍛冶技術 (ウ) 建築技術 (エ) 織物技術

問9 下線⑨について、日本に伝わった海外の技術や文化に関する説明を年代順に並べ、記号で答えなさい。

- (ア) 西洋の医学書を杉田玄白らが翻訳した。
(イ) 鑑真が来日し、僧侶になるための教えを伝えた。
(ウ) 大陸から稲作技術が北九州に伝わった。
(エ) 中国の新しい建築技術で、東大寺南大門が再建された。

問10 下線⑩について、右ページの図1と図2を見て、後の各設問に答えなさい。

(1) 図1は、江戸時代の日本橋を描いた浮世絵です。図2は、現在の日本橋の写真です。日本橋とその周辺が、図1から図2のように変化した理由を、物品輸送の面から説明しなさい。

(2) 図2のように、橋の上空がおおわれた時期として正しいものを、次から1つ選び、記号で答えなさい。

- (ア) 1920年代 (イ) 1940年代 (ウ) 1960年代 (エ) 1980年代

図1 江戸時代の日本橋



(広重「江戸名所三夕の眺」国立国会図書館所蔵)

図2 現在の日本橋



(出題者撮影)

問11 下線⑪による移動が増えることは、下の3つのSDGs（持続可能な開発目標）の達成につながるといわれています。目標を1つ選び、水上バスの移動が増えることが、その目標の達成につながる理由を説明しなさい。



〔国連広報センター〕HPより

問12 下線⑫に幕府がアメリカと最初に結んだ条約の内容として正しいものを、次から1つ選び、記号で答えなさい。

- (ア) 新潟、長崎、函館を開港する。
- (イ) 下田を開港し、燃料や食料を提供する。
- (ウ) 日本にいるアメリカ人が罪をおかしても、アメリカ人の領事が裁判を行う。
- (エ) アメリカからの商品に対して、日本が自主的に税金をかけることができない。

問13 下線⑬について、欧米に留学し、2024年7月より発行された新紙幣しんしへいに描かれた女性は誰ですか、答えなさい。

問14 下線⑭について、後の各設問に答えなさい。

(1) 地球環境を守るために、1992年にブラジルのリオデジャネイロで開催された国際会議^{かいさい}を何といますか、答えなさい。

(2) 日本の環境を守る行政機関として環境省がありますが、環境大臣を任命する役職として正しいものを、次から1つ選び、記号で答えなさい。

- (ア) 天皇
- (イ) 内閣総理大臣
- (ウ) 最高裁判所長官
- (エ) 官房長官

問15 下線⑮に関して、下の地図中のXが示している火山帯の名前を何といますか、答えなさい。



(東京法令出版『新編地理資料2025』より)

問16 下線⑩について、後の各設問に答えなさい。

(1) 石川県の県庁所在地の名前を答えなさい。

(2) 下の写真は、石川県の能登半島にある「白米千枚田」です。この地は、水田が階段状に作られています。このような耕作地を何といいますか、答えなさい。



(出典：輪島市)

(3) (2) で作られた米は、平地で作られた米よりもおいしいといわれます。その理由を
考え、説明しなさい。

(4) 石川県の伝統工芸品として正しいものを、次から1つ選び、記号で答えなさい。

(ア) 南部鉄器 (イ) 会津塗^{ぬり} (ウ) 九谷焼 (エ) 西陣織

問17 下線⑰に関して、1910年代末～1920年代初頭に世界中で大流行したインフルエンザを通称「スペイン風邪」とよびます。次の表1は、日本国内のスペイン風邪の被害状況を示したものです。表2は日本における外国人入国者数の推移を示したものです。2つの表から読み取れる内容として最も適切なものを、下の（ア）～（エ）から1つ選び、記号で答えなさい。

表1 日本国内のスペイン風邪の被害

	患者数（人） <small>かんじや</small>	死亡者数（人） <small>ひがいじょうきょう</small>
第1回流行 1918年8月～1919年7月	約2116万8400	約25万7400
第2回流行 1919年9月～1920年7月	約241万2100	約12万7700
第3回流行 1920年8月～1921年7月	約22万4300	約3700
計	約2380万4700	約38万8700

（内務省衛生局「流行性感冒表」【昭和2年】より作成）

表2 日本における外国人入国者数の推移

年	外国人入国者数（人）
1917	約2万8400
1918	約2万9600
1919	約2万9200
1920	約3万2100
1921	約2万5000

（国立国会図書館所蔵「入国外人統計」【昭和13年】より作成）

- （ア）第1回流行が最も被害が少なく、第3回流行が最も被害が多い。
- （イ）第1回から第3回流行のうち、第2回の死亡率が一番低い。
- （ウ）スペイン風邪の流行期間中は、外国人入国者数が減り続けている。
- （エ）日本における外国人入国者数の増加と患者数の増加は比例しない。

