

2024年度
晃華学園中学校

第3回
入学試験問題

【 社 会 】

時間：25分
配点：50点

特に指定のない限り、人名・地名は漢字で答えなさい。

答えはすべて解答用紙に記入すること。

問題は次のページから始まります。

1 次の文章を読み、後の各問いに答えなさい。

現代に生きる私たちは、過去の出来事から未来を予測し、今起きている問題にも適切に対応することができます。そのためには、文書や①地図などが正しく保存されていることが大切です。

②奈良時代、朝廷は漢文で『日本書紀』などの歴史書を作成しました。③平安時代に入ると、貴族が日々起こったことを日記に残すようになります。そこには貴族間の人間関係や争いなどが記録されており、貴重な史料となっています。

1300年頃、鎌倉幕府は『吾妻鏡』を作りました。この書物には、鎌倉幕府の成立から1266年までの出来事が書かれていますが、④元寇や御家人が経済的に貧しくなっていったことなどは意図的に書かれていません。南北朝時代における足利氏の立場を記録した書物が『梅松論』です。一方、南朝では、北畠親房が『神皇正統記』を記しました。このように、南北朝の動乱期には、それぞれが自分たちの正しさを歴史書によって説明しようとしてきました。また、室町時代は民衆の力が強まり、⑤一揆を起こす際、その要求などを文書にして残しました。

16世紀になると、来日した外国人により、当時の日本の様子が記録されるようになりました。なかでも⑥ルイス＝フロイスは有名な戦国大名と何度も面会し、そのときの様子を記録に残しています。

⑦江戸時代に入り、戦乱が終わると、役人になった武士が多くの公文書を作成し、安定した政治が行われました。また、幕府は各藩に⑧国絵図と、検地の結果を集めた郷帳の作成を命じ、提出させました。

⑨明治時代に入ると、政府はさまざまな批判を受けながらも新しい政策を実行していきました。さらに日本は、度重なる戦争を通じて⑩領土を拡大していきました。しかし、第二次世界大戦に敗れると多くの領土を失い、戦争に関わる大量の文書が燃やされました。

現代では、デジタル技術が急速に進化し、公文書などのデジタル化も進んでいます。最近では、AI（人工知能）がインターネット上の情報から学習し、文章や画像を生成する対話型AIを、⑪中央省庁での文書作成に活かすことも検討されています。しかし近年、官庁や⑫裁判所が⑬重要な記録を廃棄していることも発覚しています。⑭私たちは、正しい記録を適切に保存し、未来に残すことで、未来に生きる人々が私たちの経験から学ぶことができるようにする責任があることを忘れてはいけません。

問1 下線①について、下の地図を見て、次の各設問に答えなさい。



- (1) 地図中㊸の海流を何といますか、その海流の名前を答えなさい。
- (2) 地図中Bの島には、日本で最も面積が広い湖があります。この湖を何といますか、答えなさい。

- (3) 地図中Dの島における工業の様子に関する説明として正しいものを次から1つ選び、記号で答えなさい。
- (ア) 自動車を含む機械工業の出荷額1位の県がある。
 (イ) 紙・パルプ工業の出荷額1位の県がある。
 (ウ) 19世紀末に日本で最初の官営工場が創設された。
 (エ) 20世紀初めに官営の製鉄所の操業が開始された。
- (4) 次の表は地図中A～Dの島の農業や畜産業の様子についてまとめたものです。表中の〈1〉～〈4〉は、A～Dのどれに当てはまるか、組み合わせとして正しいものを下の(ア)～(エ)の中から1つ選び、記号で答えなさい。

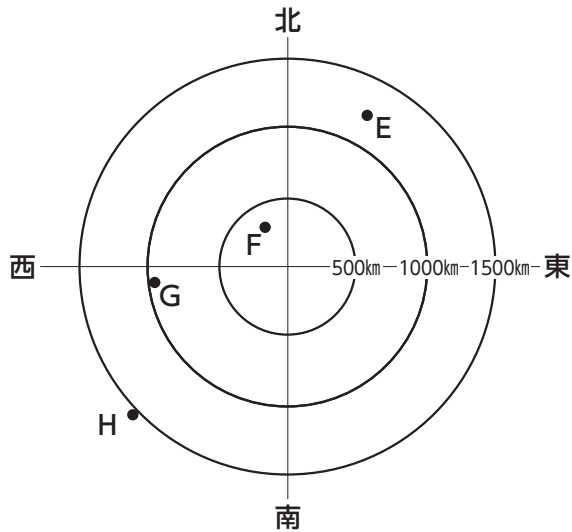
	にんじんの生産量	オリーブの生産量	すいかの生産量	ぶどうの生産量	ぶたの飼育頭数	肉用牛の飼育頭数
〈1〉		○				
〈2〉	○					○
〈3〉				○		
〈4〉			○		○	

※表中の○印は生産量・飼育頭数が1位の都道府県があるところを示している。

(農林水産省「特産果樹生産動態等調査」および「日本のすがた2023」より作成)

- (ア) 〈1〉：C 〈2〉：A 〈3〉：B 〈4〉：D
 (イ) 〈1〉：A 〈2〉：D 〈3〉：C 〈4〉：B
 (ウ) 〈1〉：C 〈2〉：A 〈3〉：D 〈4〉：B
 (エ) 〈1〉：A 〈2〉：C 〈3〉：B 〈4〉：D

問2 下線①について、下の図は東京を中心として、いくつかの島の位置を点で示したものです。これを見て、次の各設問に答えなさい。



(1) 図中E～Hで示されていない島を次から1つ選び、記号で答えなさい。

- | | | |
|---------|---------|---------|
| (ア) 対馬 | (イ) 沖縄島 | (ウ) 佐渡島 |
| (エ) 択捉島 | (オ) 淡路島 | |

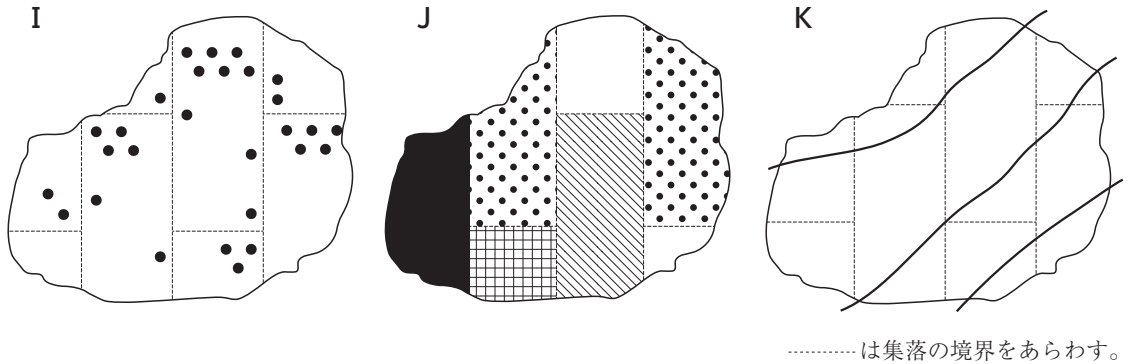
(2) 上記(1)の図中E～Hで示されていない島の説明として正しいものを次から1つ選び、記号で答えなさい。

- (ア) この島は江戸時代に宗氏が治めていた。
- (イ) この島では近郊農業として、たまねぎの栽培がさかんである。
- (ウ) この島はトキの繁殖や金山で有名である。
- (エ) この島は日本の最北端に位置している。
- (オ) この島の面積の約15%の土地にアメリカ軍基地が広がっている。

(3) 図中Hでは、水不足に備えるため、下の写真にあるような給水タンクを設置した家が多くみられます。なぜ水不足になるのか、説明しなさい。



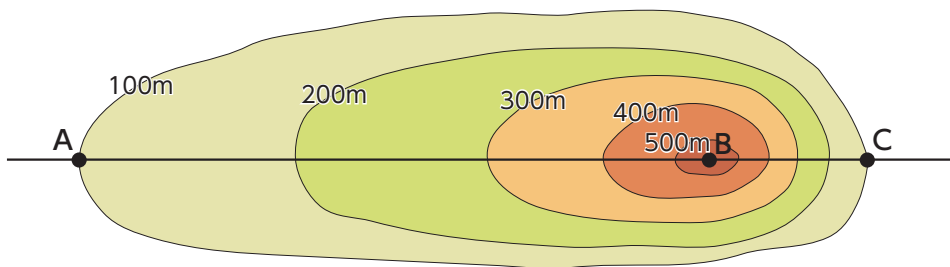
問3 下線①について、次のI～Kの図は、下の《1》～《3》に関して調べた結果をそれぞれ示したものです。正しい組み合わせを下の表の(ア)～(カ)の中から1つ選び、記号で答えなさい。



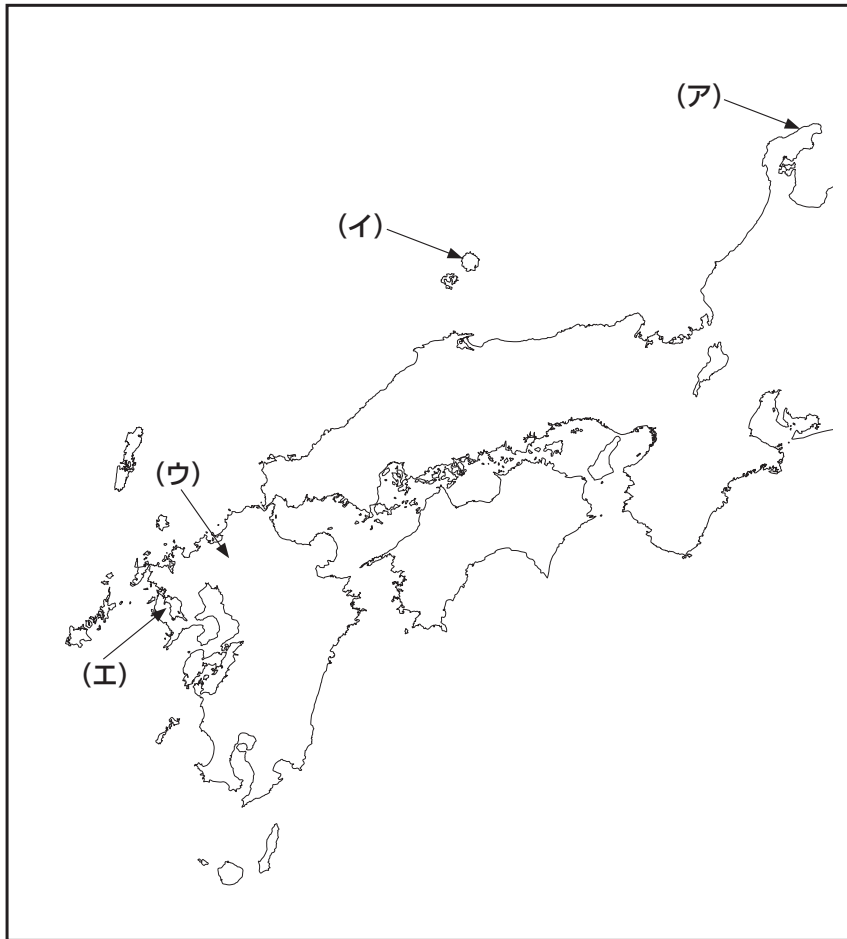
- 《1》ぶたの飼育頭数の分布
- 《2》桜の開花日
- 《3》地域別の外国人居住者の割合

	(ア)	(イ)	(ウ)	(エ)	(オ)	(カ)
《1》	I	I	J	J	K	K
《2》	J	K	I	K	I	J
《3》	K	J	K	I	J	I

問4 下線①について、下の等高線図の地形断面図を描きなさい（定規を使って描く必要はありません）。



問5 下線②について、古代の大陸との外交拠点^{きよてん}だった大宰府の場所として正しいものを、次の地図中にある(ア)～(エ)の中から1つ選び、記号で答えなさい。

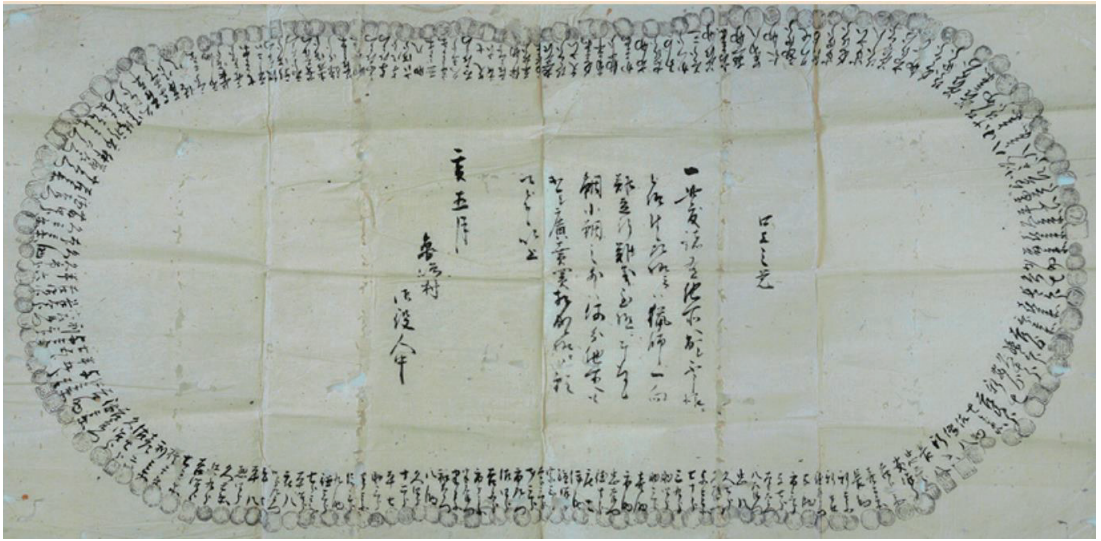


問6 下線③に起こった次の出来事を年代順に並べ、記号で答えなさい。

- (ア) 藤原道長が「この世をば 我が世とぞ思う 望月^{もちづき}の かけたることも なしと思えば」という和歌をよんだ。
- (イ) 菅原道真が遣唐使の中止を提案した。
- (ウ) 平清盛が平治の乱で源義朝をたおした。
- (エ) 坂上田村麻呂が蝦夷^{こまろ}を降伏させた。

問7 下線④について、この頃の元の皇帝は誰^{だれ}ですか、答えなさい。

問8 下線⑤に関して、江戸時代の人々は一揆を起こす際、次の図のような形で署名をしました。このような形で署名した理由を説明しなさい。



(実教出版『日本史探究』より)

問9 下線⑥について、以下の文章はフロイスと交流のあったある戦国大名に関する説明です。この戦国大名は誰ですか、答えなさい。

彼は神仏をおそれることなく、比叡山延暦寺と対立した。近江に城を築き、その城下町では関所を廃止して自由な市場を作った。多くの戦国大名と戦い、鉄砲を有効に使用し勝利を得たが、家臣の一人に本能寺で討たれた。

問10 下線⑦には、時の権力者を文学作品上で批判することが増えます。18世紀後半、江戸では「白河の 清きに魚の 住みかねて もとの濁りの 田沼恋しき」という狂歌が流行します。この歌で批判された、寛政の改革を行った人物は誰ですか、答えなさい。

問11 下線⑧について、次の図は幕府が作成させた国絵図（山や川、道路などが描かれている地図）で、現在のある県の一部が示されています。この図の説明として正しいものを次から1つ選び、記号で答えなさい。

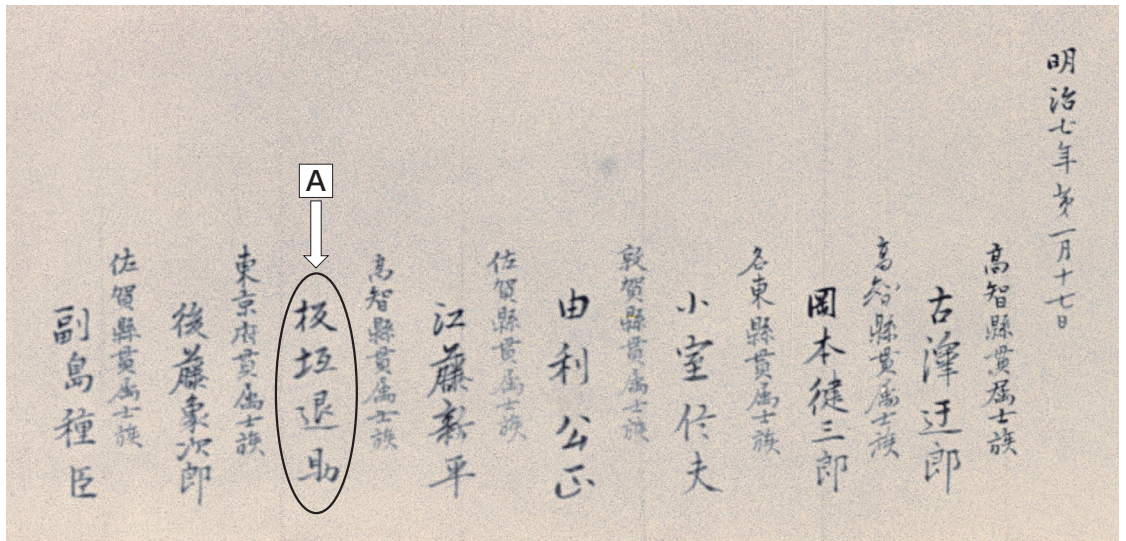


(国立公文書館デジタルアーカイブより作成)

- (ア) この図は三河国の国絵図である。
- (イ) この図には奄美大島が描かれている。
- (ウ) この図には種子島が描かれている。
- (エ) この図は薩摩国の国絵図である。

問12 下線⑨について、次の資料はある運動の中で明治政府に提出された文書の一部です。

Ⓐの人物が中心となってはじめたこの運動を何とといいますか、答えなさい。



(国立公文書館デジタルアーカイブより作成)

問13 下線⑩に関して、次の地図中(A)～(D)に関する出来事(ア)～(エ)が起こった順番に並べた場合に3番目にくるものを、記号で答えなさい。

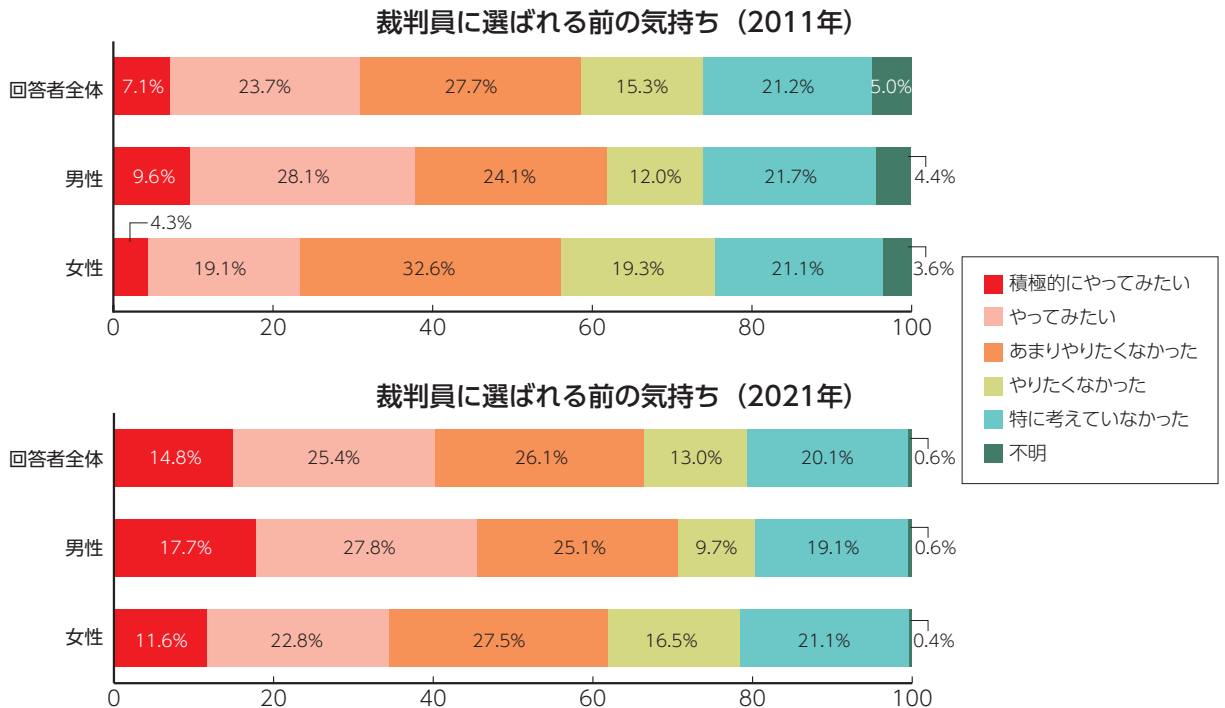


- (ア) ポーツマス条約によって、地図中(A)を日本が租借した。
- (イ) 下関条約によって、地図中(B)が日本の領土となった。
- (ウ) アメリカに占領されていた地図中(C)が日本に返還された。
- (エ) 韓国併合条約によって、地図中(D)を日本が併合した。

問14 下線⑪について、2023年4月に発足した新しい省庁を何といますか、次の中から1つ選び、記号で答えなさい。

- (ア) 復興庁 (イ) デジタル庁 (ウ) スポーツ庁 (エ) こども家庭庁

問15 下線⑫について、2009年から裁判員制度が導入されました。次の裁判員制度に関するアンケートの結果からわかる内容として誤っているものを下から1つ選び、記号で答えなさい。




(最高裁判所「裁判員等経験者に対するアンケート調査結果報告書」[2011年、2021年]より作成)

- (ア) 2011年も2021年も「積極的にやってみたい」「やってみたい」の割合の合計が、50%を超えていない。
- (イ) 2011年も2021年も男性のほうが「積極的にやってみたい」「やってみたい」の割合の合計が、女性よりも上回っている。
- (ウ) 回答者全体では2011年も2021年も「あまりやりたくなかった」「やりたくなかった」の割合の合計が、「積極的にやってみたい」「やってみたい」の割合の合計を上回っている。
- (エ) 2011年と2021年の回答者全体を^{ひかく}比較すると、2021年のほうが「積極的にやってみたい」「やってみたい」の割合の合計が多い。

問16 下線⑬によって、国や地方公共団体が持つ情報を国民が入手できる権利が侵害^{しんがい}される可能性があります。この権利を何といいますか、答えなさい。

問17 下線⑭について、未来に残すという行為^{こうい}には、歴史的な建造物や文化を世界遺産として保存することも含ま^みれます。そして、そのことがSDGs（持続可能な開発目標）の達成につながるといわれています。日本の世界遺産（自然遺産・文化遺産）を1つ取り上げ、その保存が下のどの目標と関連付けられるのか、説明しなさい。ただし、取り上げる目標は1つとします。



（「国連広報センター」HPより）

