

2023年度
晃華学園中学校

第1回
入学試験問題

【 社 会 】

時間：25分
配点：50点

特に指定のない限り、用語は漢字で答えなさい。

答えはすべて解答用紙に記入すること。

問題は次のページから始まります。

- 1 中学生が調布市について調べ、その魅力^{みりょく}を伝える「かるた」を作成しました。次の「かるた」を見て、後の各問いに答えなさい。

① 私たちの
周りにあるよ
遺跡群

お隣の
狛江市と
手を組んで
街の魅力をPR

参拝に
行ったら食べよう
深大寺そば

④ 作り手と買い手
の距離が近い
地元の農業




⑤ 京王線
開通してから
一一〇年

⑥ 戦争の
記憶を伝える
掩体壕

⑦ 鬼太郎と
仲間にあえる
布多天神

⑧ 風情ある
大輪花咲く
花火大会


⑨ 東西を
行きかう人々
甲州街道



⑩ 人権を尊重し
互^{たが}いを認め合う
⑪ 調布っ子



⑫ ひろげよう
私たちが
平和の輪



⑬ 子育てしやすい
緑豊かな
⑭ まちづくり



⑮ 調布の人口
子どもから大人まで
ますます増加

問1 傍線①に関して、調布市には旧石器、縄文、古墳時代の遺跡が多く残されています。これらの時代について、次の各設問に答えなさい。

(1) 旧石器時代の説明として誤っているものを次から1つ選び、記号で答えなさい。

- (ア) 簡単な小屋や岩かげに住み、移動しながら生活していた。
- (イ) 現在よりも気温が低い氷河時代であった。
- (ウ) マンモスやナウマンゾウなどの大型動物を狩っていた。
- (エ) 食べた貝の殻が積もり、貝塚が作られた。

(2) 縄文時代の人びとが食べた「トチノミ」という木の実には、苦み・渋みを持つ物質が多く含まれています。これらを取り除くためには、水につけたり煮たりする必要があります。このために使っていた道具は何ですか、答えなさい。

(3) 古墳の上や周りに並べられた土製の焼き物で、人物や動物などの形をしていて、当時の生活や風習を知る手がかりとなるものは何ですか、ひらがなで答えなさい。

問2 傍線②に関して、次の各設問に答えなさい。

(1) 「狛江」という言葉の由来は、朝鮮半島出身者のいるところを意味する「高麗居」であったと考えられています。7世紀、百済と高句麗が滅亡し、朝鮮半島から多くの人々が日本列島に移り住みました。百済が滅亡したとき、倭は百済を助けるために唐・新羅の連合軍と戦い、敗れました。この戦いは何ですか、答えなさい。

(2) 現在、晃華学園がある場所には「狛江入道」という鎌倉時代の武士の館があったといわれています。以下の文学作品A～Dのうち、鎌倉時代の作品の組み合わせとして正しいものを(ア)～(エ)から1つ選び、記号で答えなさい。

A 源氏物語 B 平家物語 C 万葉集 D 新古今和歌集

(ア) A・C (イ) A・D (ウ) B・C (エ) B・D

問3 傍線③は、江戸幕府三代将軍も絶賛したといわれています。江戸幕府三代将軍は誰ですか、答えなさい。

問4 傍線④に関して、明治時代になると調布市では桑畑くわばたけが増えました。この背景には、幕末に結んだ条約により始まった外国との貿易があります。桑畑が増えた理由を、条約名を挙げて説明しなさい。

問5 傍線⑤が1913年に笹塚ささづかから調布間で開通したことをきっかけとして、調布市は別荘地べっそうになりました。現在、見華学園がある場所には、幕末に大老を務めた井伊直弼の孫の別荘がありました。次の幕末の出来事できごとを年代順に並べ、記号で答えなさい。

- (ア) 薩摩藩と長州藩が同盟を結んだ。
- (イ) 徳川慶喜が朝廷に政権を返上した。
- (ウ) 水野忠邦が天保の改革を行った。
- (エ) 井伊直弼が吉田松陰や橋本左内らを処罰しよばつした。

問6 傍線⑥は、戦闘機せんとうきを空襲くうしゅうから守るために太平洋戦争のときに造られた施設しせつです。太平洋戦争末期には、連合国が日本に対して降伏こうふくを求める宣言を行いました。この宣言は何ですか、答えなさい。

問7 傍線⑦に関して、漫画『ゲゲゲの鬼太郎』などで知られる水木しげるさんは、調布市の名誉市民ですが、幼少期を鳥取県で過ごしました。鳥取県を含む中国地方について、次の各設問に答えなさい。

- (1) 鳥取県に隣接りんせつしていない県を次から1つ選び、記号で答えなさい。
 - (ア) 島根県 (イ) 岡山県 (ウ) 兵庫県 (エ) 山口県

- (2) 中国地方の地形・気候の説明として誤っているものを次から1つ選び、記号で答えなさい。
 - (ア) 中国山地には、2000mを超える山はなく、なだらかな山が連なっている。
 - (イ) 西部には、カルスト地形で有名な秋吉台がある。
 - (ウ) 山陰地方は、南東の季節風によって冬に降水量が多い。
 - (エ) 瀬戸内海沿岸部は、温暖で一年中降水量が少ない。

問8 傍線⑦に関して、水木しげるさんは漫画家であると同時に妖怪^{ようかい}研究家でもありました。以下のA～Cの文章は、ある妖怪と関係の深い県について説明したものです。それぞれの文章が示している県の組み合わせとして正しいものを次の(ア)～(カ)の中から1つ選び、記号で答えなさい。

A	宮古や大船渡などの良港で知られるこの県では、三陸沖に船をおどかす妖怪「海座頭 ^{うみざとう} 」が ^{しゅつぼつ} 出沒したと伝えられています。
B	阿蘇山で知られるこの県は、かつて肥後国とよばれ、疫病 ^{えきびょう} を予言した妖怪「アマビエ」が現れたという記録が残されています。
C	日光の社寺で知られるこの県には、妖怪「九尾 ^{きゅうび} の狐 ^{きつね} 」が姿を変えたとされる「殺生石 ^{せつしょうせき} 」があり、この付近一帯には火山ガスが絶えず ^{ふんしゅつ} 噴出しています。

- (ア) A－三重県 B－山形県 C－岐阜県
(イ) A－岩手県 B－熊本県 C－栃木県
(ウ) A－福井県 B－鹿児島県 C－奈良県
(エ) A－三重県 B－鹿児島県 C－栃木県
(オ) A－福井県 B－熊本県 C－岐阜県
(カ) A－岩手県 B－山形県 C－奈良県

問9 傍線⑧について、秋田県と新潟県では日本を代表する花火大会が開かれています。両県では米作りがさかんです。ブランド米の品種とその主な産地の組み合わせとして誤っているものを次から1つ選び、記号で答えなさい。

- (ア) ゆめぴりか－北海道
(イ) あきたこまち－秋田県
(ウ) はえぬき－愛媛県
(エ) こしひかり－新潟県

問10 傍線⑨は甲斐国、現在の山梨県のことを指します。山梨県の説明として誤っているものを次から1つ選び、記号で答えなさい。

- (ア) 甲府盆地の扇状地は、水はけが良く、傾斜しているため、稲作には不向きであるが、桃やぶどうの生産には適している。
- (イ) 山がちな県土で水田が少なく、米が貴重だったため、小麦を材料とする「ほうとう」が郷土料理である。
- (ウ) 高速道路により東京までのアクセスが良いため、先端技術産業が多く進出しているほか、水晶などの宝飾業もさかんである。
- (エ) 現在、県内を走行している東海道新幹線に加え、東京と大阪を結ぶリニア中央新幹線が開通する予定である。

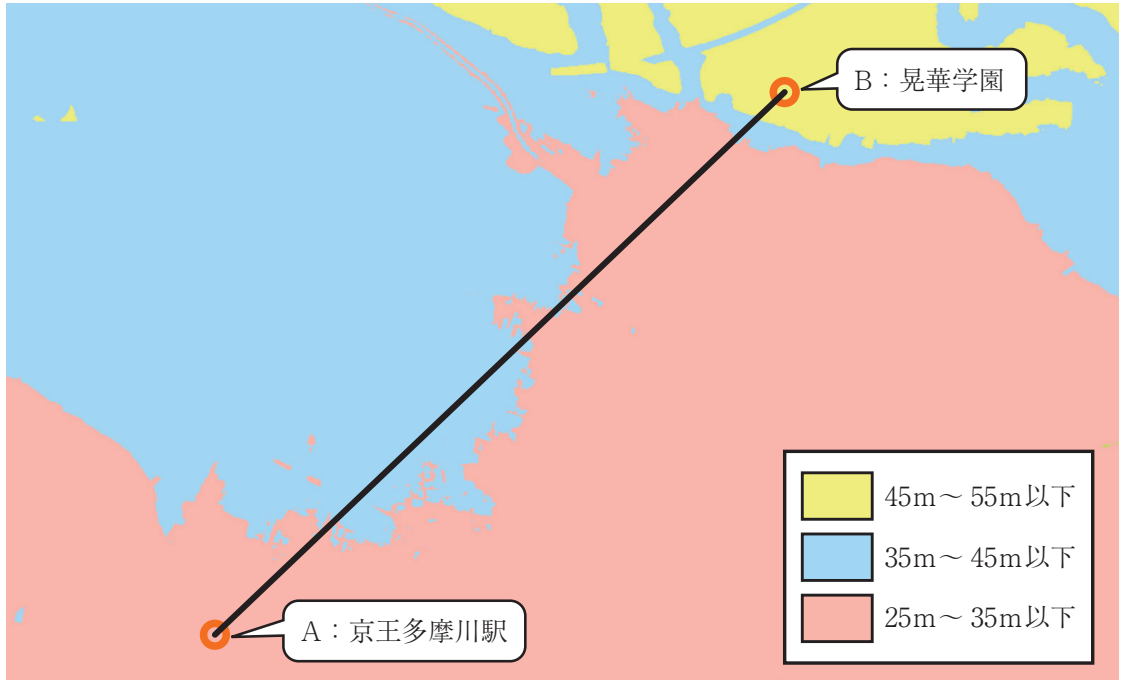
問11 傍線⑩について、日本国憲法で保障されている基本的人権のうち、社会権に当てはまるものを次から1つ選び、記号で答えなさい。

- (ア) 学問の自由
- (イ) 教育を受ける権利
- (ウ) 選挙権
- (エ) 裁判を受ける権利

問12 傍線①について、次の各設問に答えなさい。

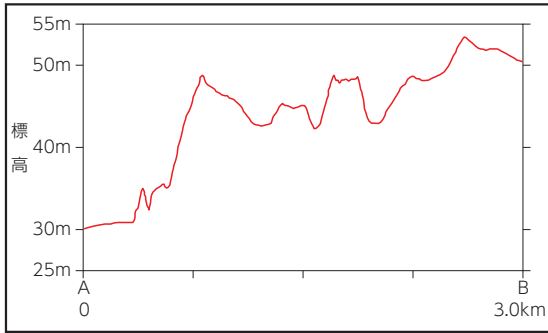
- (1) 次の資料は、晃華学園付近の地形を標高ごとに色分けした図です。Aは「京王多摩川駅」、Bは「晃華学園」の位置をそれぞれ示しています。京王多摩川駅から晃華学園までの断面図として正しいものを次ページのア～エから1つ選び、記号で答えなさい。

図

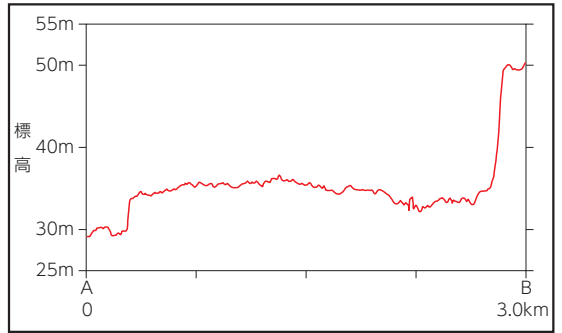


(国土地理院「地理院地図 電子国土 Web」より作成)

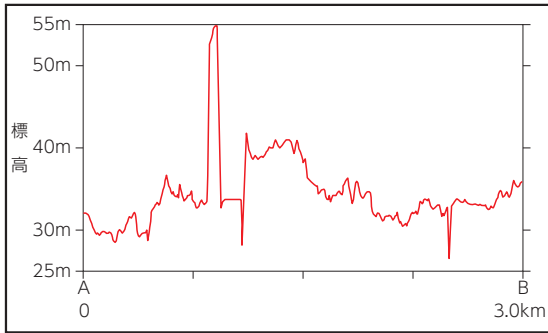
ア



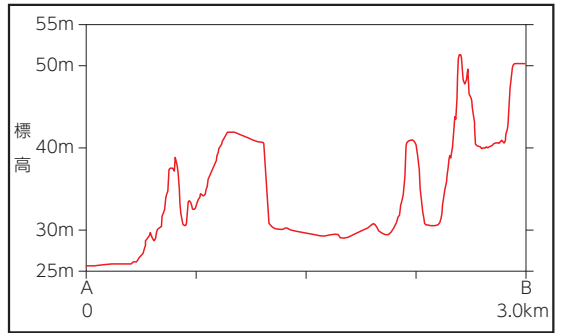
イ



ウ



エ



(谷謙二研究室「Web地形断面メーカー」より作成)

- (2) 調布市をはじめとする多摩川周辺は、台風などの自然災害にあうことがあります。国土地理院は、自然災害を伝える石碑やモニュメントを示す新たな地図記号を、2019年に制定しました。この地図記号を次から1つ選び、記号で答えなさい。

ア




イ



ウ



エ

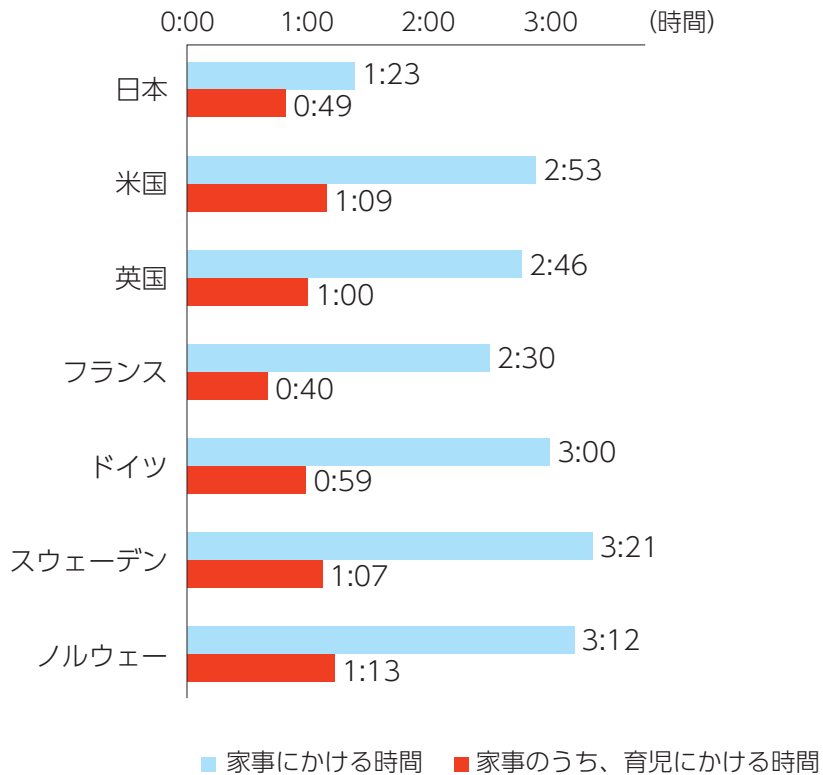


問13 傍線⑫について、2020年にノーベル平和賞を受賞した組織として正しいものを次から1つ選び、記号で答えなさい。

- (ア) WFP (国連世界食糧計画)
- (イ) UNICEF (国連児童基金)
- (ウ) UNHCR (国連難民高等弁務官事務所)
- (エ) UNESCO (国連教育科学文化機関)

問14 傍線⑬について、次の資料からわかる内容として正しいものを次から1つ選び、記号で答えなさい。

6歳未満児のいる夫の家事・育児関連時間（1日当たり）



（厚生労働省「男性の育児休業取得促進等について」より作成）

- (ア) 欧米と比較して、6歳未満児のいる夫が育児にかかる時間は、日本が一番短い。
- (イ) すべての国において、家事のうち、育児にかかる時間の割合が50%以下となっている。
- (ウ) 日本では、6歳未満児のいる夫が家事にかかる時間は、妻よりも短い。
- (エ) 日本以外の国は、6歳未満児のいる夫が家事にかかる時間は2時間を超える。

問15 傍線⑭では、さまざまな価値観をもった市民が共に助け合い、取り残されるような人がでないように気をつけることが大切です。次の会話を読み、こうしたまちづくりの発想に沿っていない発言を1つ選び、記号で答えなさい。

晃じい：これからは君たちのような若者が街を活性化するんじゃ。どんなまちづくりが理想かのう。

華子：(ア) 私はおじいちゃんみたいな高^{こうれいしや}齢者も利用しやすい建物や設備をたくさん作るべきだと思うわ。

まなぶ：(イ) 利用者が少ない駅を廃止して、都心への通勤・通学時間を短縮してほしいな。


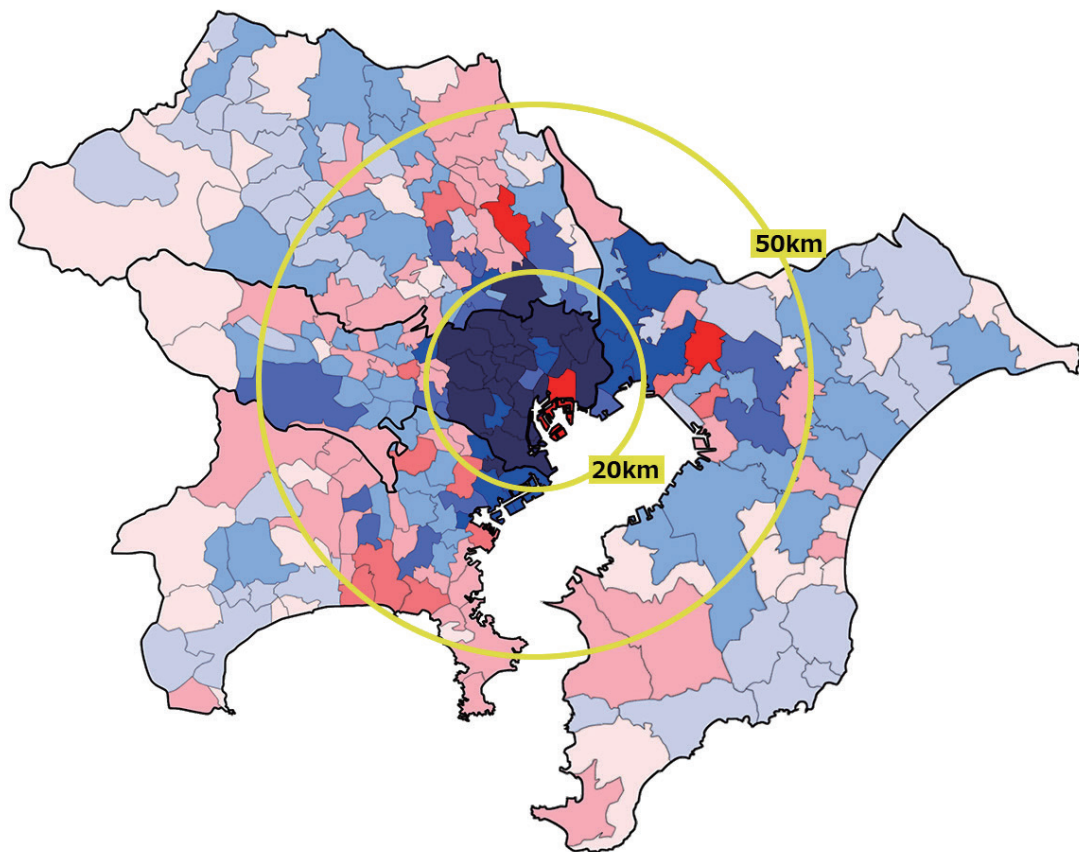
園子：(ウ) あとは商店街も買い物をするだけじゃなくて、地域の人たちが交流しやすい場になるといいよね。

華子：(エ) 歴史的な街並みや住んでいる人たちから見た景観を守ることも大切よね。

問16 傍線⑮について、次の各設問に答えなさい。

- (1) 次の資料は2020年と比較して、2021年に1都3県で人口が増加した地域と減少した地域を色分けした図です。図の中心から20km^{けんない}圏内について、図から読み取れる人口の増減の傾向と、そのような傾向がみられた理由を説明しなさい。

1都3県／増加・減少の「勢い」



(日経BP総合研究所「新・公民連携最前線」より作成)

(2) 世界の人口は長期的に増加傾向となっており、全世界の食料生産量が追い付かず、近い将来、世界中で食料が不足すること（食料危機）が心配されています。次の「持続可能な開発目標」（SDGs）から、食料危機の改善に結びつく目標を1つ選び、その目標を実現することで、なぜ食料危機が改善されるのか、具体的に説明しなさい。



(「国連広報センター」HPより)

